



مراجعة 2 في الرياضيات للسنة الثانية

التمرين الاول :

ضع كل عملية عموديا ثم انجزها :


$$52 + 36 = \dots \quad / \quad 92 + 8 = \dots \quad / \quad 24 + 61 = \dots \quad / \quad 37 + 53 = \dots$$

التمرين الثاني :

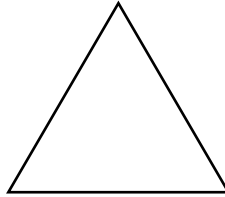
اوجد العدد المناسب :

$$49 + \dots = 100 \quad / \quad 60 + \dots = 100 \quad / \quad 78 + \dots = 100 \quad / \quad 55 + \dots = 100$$


التمرين الثالث: سم المضلعات التالية



.....



.....



.....

التمرين الرابع: اكتب الأعداد الموالية بالحروف

..... : 186

..... : 199

..... : 150

..... : 101

..... : 115

..... : 127

..... : 142

التمرين الخامس:

مثل الأعداد الآتية بالوحدة و الأعمدة و الصفيحة :

	160
	185
	109

الوضعية :

ذهب زيد مع أخته ليلى إلى البستان ليقتطفا حبات من البرتقال. فقطف زيد 23 حبة، و وضعها داخل الصندوق بينما ليلى قطفت ضعف ما جمعه زيد.

1 - كم حبة برتقال قطفتها ليلى ؟

2 - ما هو مجموع حبات البرتقال الموضوعة في الصندوق؟

عند وصولهما المنزل وزعت الأم على الجارة نصف ما جمعه زيد و ليلى معا. فكم أخذت الجارة من حبة برتقال ؟

الحل

الاجوبة

العمليات
