



..... التاريخ: اللقب: الاسم:
----------------	--------------	--------------

اختبار في مادة التاريخ والجغرافيا للسنة الخامسة للفصل الأول (2024 – 2025)

التاريخ:

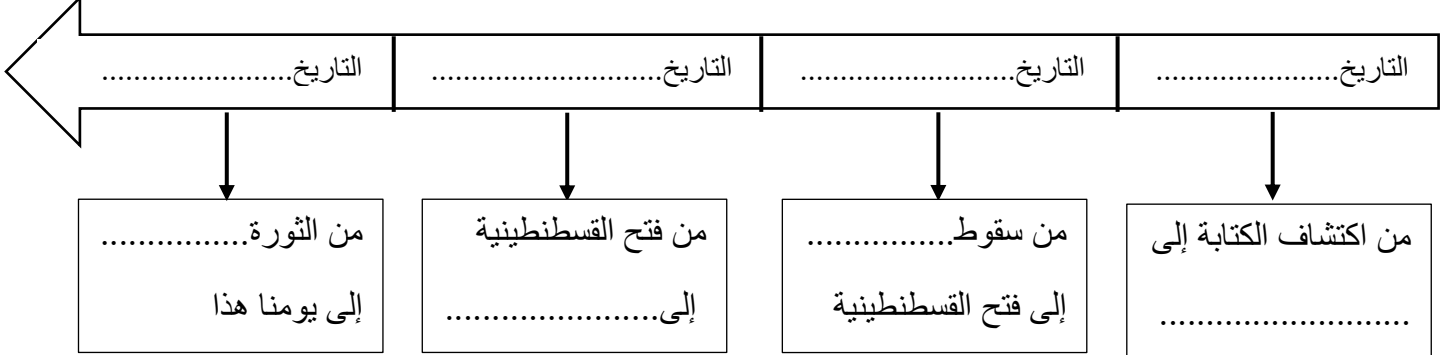
السند: أقيم معرض الكتاب. قرر حسام زيارة المعرض رفقة والديه. وبينما هو يتجول بين أروقته لفت انتباهه رواق التاريخ فراح يجوبه، فتصفح كتاب عنوانه "بضعة أسطر في التاريخ".

المعيار 1: تمييز العصور التاريخية

* في إحدى صفحات الكتاب توضح العصور التاريخية التي مرت بها البشرية:

المطلب 1: أتم كتابة العصور التاريخية على السلم الزمني مع التواريخ.

من إلى من إلى من إلى من إلى



المطلب 2: أعين كل ميزة بالمرحلة الزمنية الخاصة بها.

- سقوط غرناطة 1492 في مرحلة التاريخ.....
- مولد سيدنا محمد صلى الله عليه وسلم في مرحلة التاريخ.....
- استقلال الجزائر في مرحلة التاريخ.....
- ظهور النهضة الأوروبية في مرحلة التاريخ.....
- وحد الملك ماسينيسا نوميديا في مرحلة التاريخ.....

المعيار 2: إدراك العلاقة بين التحولات الاقتصادية والحكة الاستعمارية

* تطلع حسام إلى صفحة الاستعمار. فهو ظاهرة تهدف إلى سيطرة الدول القوية على الدول الضعيفة من أجل.


المطلب 1: أضع "صحيح" أمام الجواب الصحيح و"خاطئ" أمام الجواب الخاطئ.

- الاحتياجات الكبيرة لمواد الخام والبحث على الأسواق التجارية. (.....)
- مساعدة الدول المستعمرة للدول الضعيفة من أجل مواكبة النهضة الصناعية. (.....)
- نشر المسيحية وحركات التبشير. (.....)
- نقص كبير في عائدات التجارة والصناعية في الدول الأوروبية. (.....)
- تسلط الدول المستعمرة على الدول الأفريقية والآسيوية. (.....)
- تطوير صناعة السفن مما سهل الإبحار من أجل التسويق. (.....)

المعيار 3: تمييز انعكاسات الاستعمار الأوروبي الحديث.

* انعكس الاستعمار الأوروبي على الدول الضعيفة مما أدى إلى انتشار المجاعة والقتل والتدمير وكذا التنصير.

المطلب 2: استعن بالصور لذكر نتائج الاستعمار الأوروبي.





التاريخ:.....	اللقب:.....	الاسم:.....
---------------	-------------	-------------

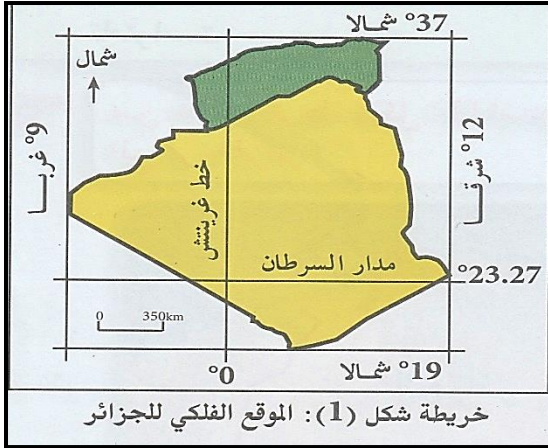
الجغرافيا:

السند: خلال عطلة الشتاء ذهب سليم رفقة عائلته لزيارة إلى صحراء الجزائر فأدرك أن الجزائر مساحتها كبيرة جدا. ولها تضاريس متنوعة وأقاليم مناخية مختلفة.

المعيار 1: تحديد موقع فلكي وجغرافي

المطلب 1: حدد الموقع الفلكي للجزائر معتمدا على الخريطة.

تقع الجزائر بين خطي طول.....و.....
وبين دائرتي عرض.....و.....

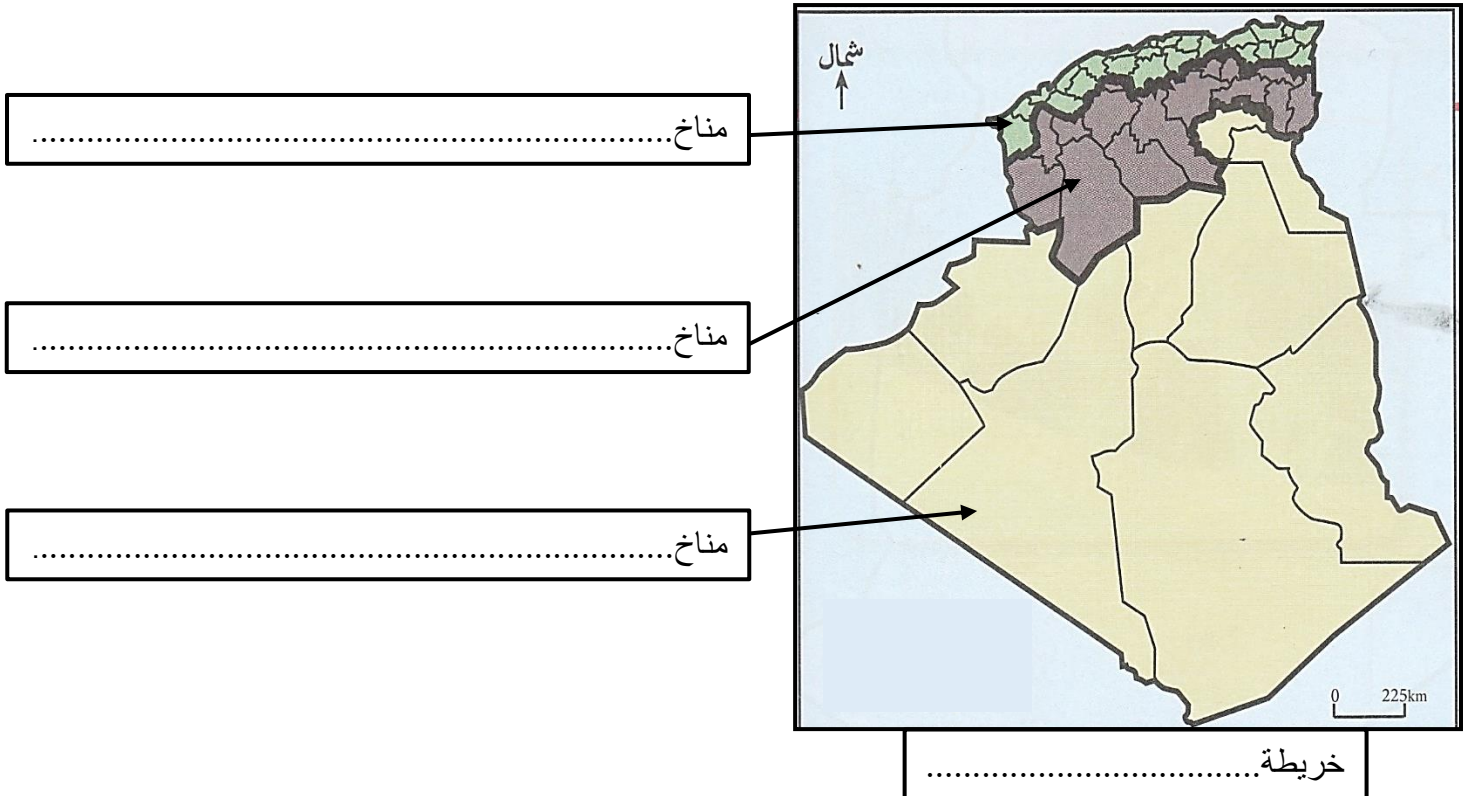


المطلب 2: أتمم الفراغات بما يناسب.

يمر خط غرينيتش من مدينة.....يمر مدار.....على مدينة تمناست.
تبلغ مساحة الجزائر.....يحد الجزائر شمالا.....

المعيار 2: استخراج معطيات من خريطة أو تمثيلها تتعلق بالمناخ أو السطح.

المطلب 1: تتمتع الجزائر بثلاثة أقاليم مناخية. أتمم المعلومات على الخريطة التالية.



المطلب 2: أتمم الجدول الآتي.

المناخ / الخصائص	نبات ينمو فيه	حيوان يعيش فيه	ولاية توجد به
المناخ.....
المناخ.....
المناخ.....

المعيار3: رصد التغييرات المناخية وأثرها على السطح.

سمع سليم أثناء السفر بأن المناطق الشمالية معرضة للتصحر فأراد أن يستفسر عن هذه الظاهرة. أذكر سببين للتصحر واقترح حلا لهما.

أسباب التصحر	الحلول المقترحة
1-.....
2-.....